



NOME:		Nº
DATA:	PROFESSOR (A): VANESSA	ENSINO:
CLASSE: 2º ANO	DISCIPLINA: MATEMÁTICA	Nº Da Tarefa: 2

Resolva as subtrações

A- $178 - 128 =$

C	D	U

B- $245 - 123 =$

C	D	U

C- $189 - 156 =$

C	D	U

D- $175 - 165 =$

C	D	U

E- $136 - 25 =$

C	D	U

F- $248 - 35 =$

C	D	U

G- $266 - 155 =$

C	D	U

H- $298 - 147 =$

C	D	U

I- $285 - 123 =$

C	D	U

J- $256 - 124 =$

C	D	U

Escreva por extenso os resultados das subtrações:

- A. _____
- B. _____
- C. _____
- D. _____
- E. _____
- F. _____
- G. _____
- H. _____
- I. _____
- J. _____



NOME:										Nº	
DATA:				PROFESSOR (A): VANESSA				ENSINO:			
CLASSE: 2º ANO				DISCIPLINA: MATEMÁTICA				Nº Da Tarefa: 3			

Continue a sequência.

Em ordem crescente

10											
----	--	--	--	--	--	--	--	--	--	--	--

Agora escreva a mesma sequência em ordem decrescente.

--	--	--	--	--	--	--	--	--	--	--	--

Organize os números abaixo em ordem crescente.

120		20		75		150		42		200		30		40
-----	--	----	--	----	--	-----	--	----	--	-----	--	----	--	----

--	--	--	--	--	--	--	--	--	--	--	--	--	--	--

Continue as sequências:

5	10			25										
---	----	--	--	----	--	--	--	--	--	--	--	--	--	--


	6			18										
--	---	--	--	----	--	--	--	--	--	--	--	--	--	--

4			16			28								
---	--	--	----	--	--	----	--	--	--	--	--	--	--	--




NOME:		Nº
DATA:	PROFESSOR (A): VANESSA	ENSINO:
CLASSE: 2º ANO	DISCIPLINA: MATEMÁTICA	Nº Da Tarefa: 4


Complete os quadros abaixo com antecessor e sucessor




25	
18	
30	
56	
74	
15	
27	
71	




95	
23	
69	
99	
12	
20	
40	
69	




69	
91	
61	
50	
90	
13	
92	
34	



49	
45	
52	
67	
10	
58	
11	
21	



82	
17	
72	
54	
29	
63	
55	
81	



50	
27	
21	
72	
60	
12	
98	
86	



NOME:		Nº
DATA:	PROFESSOR (A): VANESSA	ENSINO:
CLASSE: 2º ANO	DISCIPLINA: MATEMÁTICA	Nº Da Tarefa: 5

Numeral ordinal indica ordem.




✎ Escreva os numerais ordinais correspondentes.

- 1- Trigésimo nono: _____
- 2- Sexagésimo quinto: _____
- 3- Nonagésimo terceiro: _____
- 4- Quinquagésimo oitavo: _____
- 5- Quadragésimo segundo: _____
- 6- Décimo primeiro: _____
- 7- Septuagésimo sexto: _____
- 8- Octogésimo sétimo: _____
- 9- Vigésimo quarto: _____

✎ Agora, escreva por extenso os numerais ordinais:

- 1- 89º _____
- 2- 56º _____
- 3- 71º _____
- 4- 94º _____
- 5- 37º _____
- 6- 22º _____
- 7- 83º _____
- 8- 68º _____





NOME:		Nº
DATA:	PROFESSOR (A): VANESSA	ENSINO:
CLASSE: 2º ANO	DISCIPLINA: MATEMÁTICA	Nº Da Tarefa: 6

Complete a sequência do quadro abaixo:

2	4	6					
	20		24		28		32
34		38		42		46	



De o antecessor e o sucessor: (vizinho)

_____ 34 _____ _____ 79 _____ _____ 49 _____
_____ 10 _____ _____ 19 _____ _____ 91 _____
_____ 8 _____ _____ 5 _____ _____ 2 _____

Resolva os fatos:

$2 + 2 =$ _____ $3 + 6 =$ _____ $8 + 2 =$ _____
 $11 - 5 =$ _____ $9 - 3 =$ _____ $10 - 7 =$ _____

Ligue fazendo a correspondência:

Duas dezenas e seis unidades
Uma dezena e uma unidade
Uma dezena
Meia dezena

5
26
11
10



Resolva as operações:

$\begin{array}{r} \text{D} \text{U} \\ 1 2 \\ + 3 4 \\ \hline \end{array}$	$\begin{array}{r} \text{D} \text{U} \\ 2 3 \\ + 4 1 \\ \hline \end{array}$	$\begin{array}{r} \text{D} \text{U} \\ 1 7 \\ + 3 2 \\ \hline \end{array}$	$\begin{array}{r} \text{D} \text{U} \\ 7 8 \\ - 2 1 \\ \hline \end{array}$	$\begin{array}{r} \text{D} \text{U} \\ 8 9 \\ - 1 3 \\ \hline \end{array}$	$\begin{array}{r} \text{D} \text{U} \\ 4 5 \\ - 3 4 \\ \hline \end{array}$
--	--	--	--	--	--