



NOME:		Nº
DATA:	PROFESSOR (A): VANESSA	ENSINO:
CLASSE: 2º ANO	DISCIPLINA: HIST. E GEOG.	Nº Da Tarefa: 1

1) COMPLETE AS FRASES ABAIXO:

A) ESTOU NO _____ ANO. MINHA ESCOLA SE CHAMA

B) MINHA IDADE É: _____

2)

TODOS OS ALUNOS TEM DIREITOS E DEVERES NA ESCOLA.

LEIA AS ALTERNATIVAS ABAIXO E MARQUE UM X NOS DEVERES DE UM BOM ALUNO.

_____ IR UNIFORMIZADO TODOS OS DIAS PARA A ESCOLA;

_____ FALAR AO MESMO TEMPO EM QUE OS COLEGAS E PROFESSORES;

_____ ZELAR PELA LIMPEZA DA ESCOLA E DE SUA SALA DE AULA

_____ ESTUDAR, FAZER AS TAREFAS E TRABALHOS COM CAPRICO E PONTUALIDADE.

3) LEIA COM ATENÇÃO

**AS PESSOAS DE UMA FAMÍLIA
PRECISAM TER AMIZADE,
RESPEITO E COOPERAÇÃO
UMA COM AS OUTRAS, POIS
FORMAM UMA COMUNIDADE
FAMILIAR**




A	M	I	Z	A	D	E	M	O	X
C	O	O	P	E	R	A	Ç	Ã	O
C	O	M	U	N	I	D	A	D	E
D	R	E	S	P	E	I	T	O	V





NOME:		Nº
DATA:	PROFESSOR (A): VANESSA	ENSINO:
CLASSE: 2º ANO	DISCIPLINA: HIST. E GEOG.	Nº Da Tarefa: 2



O bairro

Leia:

O bairro é uma parte da cidade, e todos têm um nome e uma história. Alguns bairros ficam perto e outros ficam afastados do centro da cidade. Quando um bairro fica muito afastado do centro da cidade, dizemos que ele fica na **periferia** ou no **subúrbio**.

Os bairros podem ser classificados em:

 <p>Residenciais: a maior parte das casas são residências.</p>	 <p>Comerciais: são onde existem muitos estabelecimentos comerciais (onde compram e vendem mercadorias).</p>	 <p>Industriais: onde há muitas fábricas (onde produzem alimentos, roupas, materiais de construção e artigos em geral).</p>
---	---	---

Atividades

Responda:

Qual o nome de seu bairro?

.....

O que você pode encontrar em seu bairro?

.....
.....
.....






NOME:		Nº
DATA:	PROFESSOR (A): VANESSA	ENSINO:
CLASSE: 2º ANO	DISCIPLINA: HIST. E GEOG.	Nº Da Tarefa: 3

AGORA VOCÊ RESPONDE...

1) Em qual bairro da cidade fica sua casa?

2) Nos arredores da sua casa tem:

- residências novas
- residências velhas
- indústrias
- posto de saúde
- igreja
- casas comerciais
- coleta de lixo
- transporte coletivo
- terrenos baldios
- posto de gasolina



3) O bairro onde fica sua casa é um bairro:

- só residencial
- industrial
- comercial
- comercial e residencial

4) Quais são as transformações que ocorreram no seu bairro?

- muitas construções
- asfaltamento de rua
- derrubada de árvores
- poucas árvores nativas

5) Quais transformações seriam necessárias para melhorar seu bairro?





NOME:

Nº

DATA:

PROFESSOR (A): VANESSA

ENSINO:

CLASSE: 2º ANO

DISCIPLINA: HIST. E GEOG.


Nº Da Tarefa: 4

Paisagem


Tudo o que existe num lugar faz parte da paisagem desse lugar: casas, ruas, rios, montanhas, árvores, praças, estradas, pontes.

Observe o desenho ao lado ao que mostra a natureza como ela é.

Trata-se de uma paisagem natural, porque o ainda não foi modificada pelo homem.



Agora, observe este desenho.



O homem modificou bastante a paisagem natural.

Derrubou árvores, canalizou rios, modificou a forma dos terrenos para construir prédios, ruas, avenidas, pontes, viadutos etc.


Por isso essa paisagem é chamada de

Paisagem Cultural modificada ou Paisagem Humanizada.

Agora que você já sabe o que é Paisagem Cultural ou Natural ficou fácil responder as atividades.



1 - Marque um X na paisagem que foi transformada pelo homem para construir uma cidade.



2 - Observe as imagens e marque um X na resposta certa.



Esta paisagem foi feita pela natureza e ela não foi modificada pelo homem. Trata-se de uma paisagem:

- Paisagem Natural
- Paisagem Cultural



Esta paisagem foi modificada pelo homem. Ele derrubou árvores e construiu casas, ruas e prédios. Trata-se de uma paisagem:

- Paisagem Natural
- Paisagem Cultural